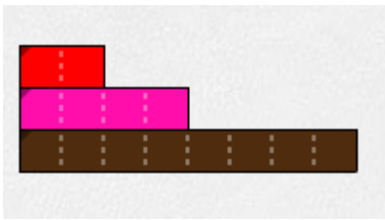


Réponses :

1) La règle vert clair vaut une unité.

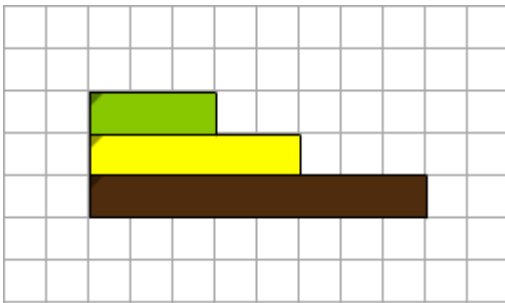
- Quelle est la longueur de la règle vert foncé ?
- Quelle est la longueur de la règle bleue ?



Réponses :

2) La règle rouge vaut une unité.

- Quelle est la longueur de la règle rose ?
- Quelle est la longueur de la règle marron ?



Réponses :

3) La règle verte vaut 3 unités.

- Quelle est la longueur de la règle jaune ?
- Quelle est la longueur de la règle marron ?

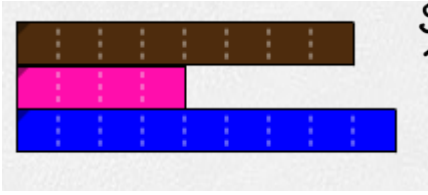


Réponses:

4) La règle rose vaut 1 unité.

- Quelle est la longueur de la règle verte ?
- Quelle est la longueur de la règle orange ?



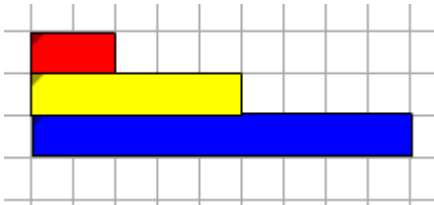


5) La règle bleue vaut 1 unité.

- Quelle est la longueur de la règle marron ?
- Quelle est la longueur de la règle rose ?



Réponses :

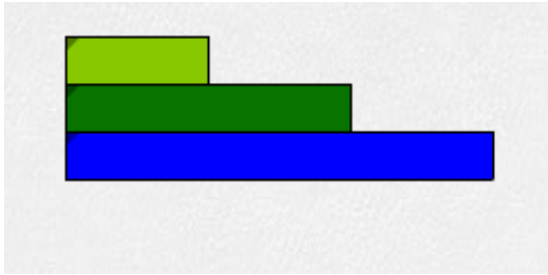


6) La règle rouge vaut 1 unité.

- Quelle est la longueur de la règle jaune ?
- Quelle est la longueur de la règle bleue ?



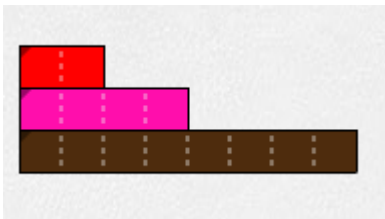
Réponses:



- 7) La règle vert foncé vaut une unité.
- Quelle est la longueur de la règle vert clair ?
 - Quelle est la longueur de la règle bleue ?



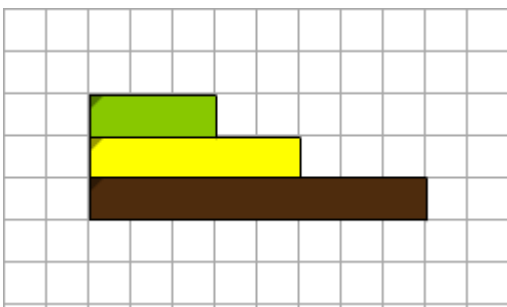
Réponses :



- 8) La règle rose vaut 2 unités.
- Quelle est la longueur de la règle rouge ?
 - Quelle est la longueur de la règle marron ?



Réponses :



- 9) La règle jaune vaut 1 unité.
- Quelle est la longueur de la règle verte ?
 - Quelle est la longueur de la règle marron ?



Réponses :

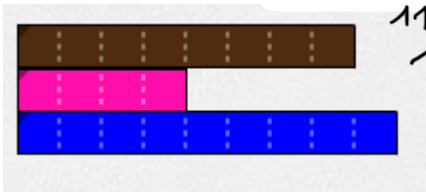


10) La règle verte vaut 1 unité.

- Quelle est la longueur de la règle rose ?
- Quelle est la longueur de la règle orange ?



Réponses:

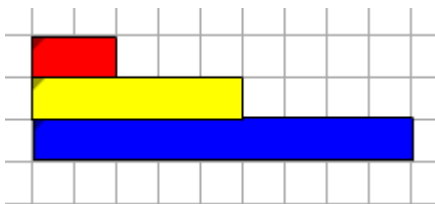


11) La règle marron vaut 4 unités.

- Quelle est la longueur de la règle rose ?
- Quelle est la longueur de la règle bleue ?



Réponses :

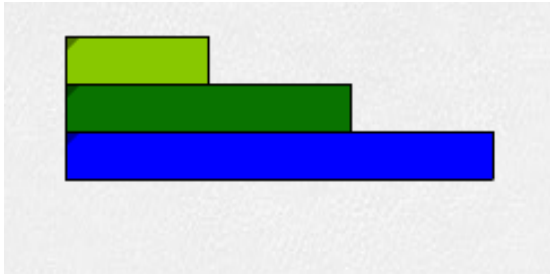


12) La règle jaune vaut 1 unité.

- Quelle est la longueur de la règle rouge ?
- Quelle est la longueur de la règle bleue ?



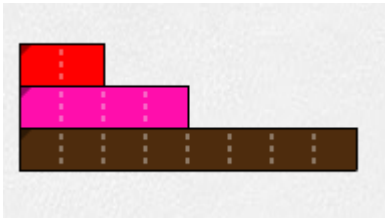
Réponses:



- 13) La réglette bleue vaut une unité.
- Quelle est la longueur de la réglette vert clair ?
 - Quelle est la longueur de la réglette vert foncé ?



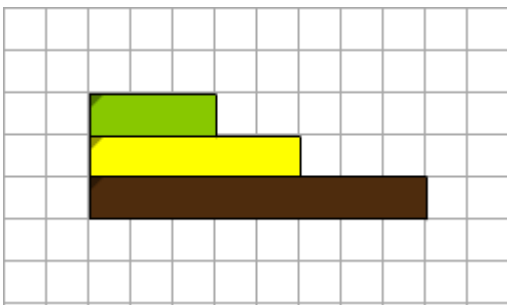
Réponses :



- 14) La réglette marron vaut 1 unité.
- Quelle est la longueur de la réglette rouge ?
 - Quelle est la longueur de la réglette rose ?



Réponses :



- 15) La réglette marron vaut 2 unités.
- Quelle est la longueur de la réglette verte ?
 - Quelle est la longueur de la réglette jaune ?



Réponses :

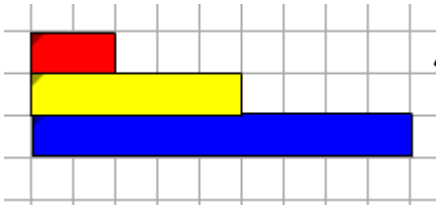


16) La règle orange vaut 1 unité.

- Quelle est la longueur de la règle rose ?
- Quelle est la longueur de la règle verte ?



Réponses:



17) La règle bleue vaut 2 unités.

- Quelle est la longueur de la règle rouge ?
- .Quelle est la longueur de la règle jaune?



Réponses: