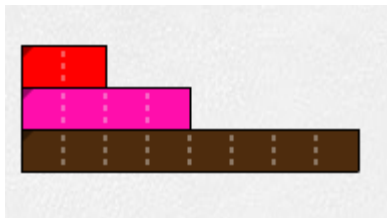


Réponses : 2 unités
3 unités

La réglette vert clair vaut une unité.

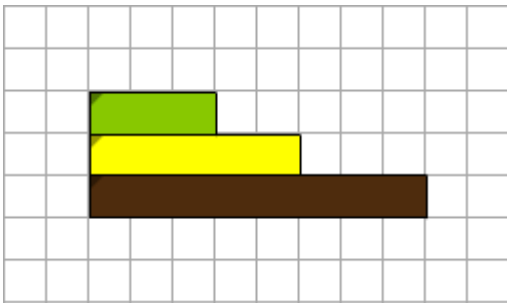
- Quelle est la longueur de la réglette vert foncé ?
- Quelle est la longueur de la réglette bleue ?



Réponses : 2 unités
4 unités

La réglette rouge vaut une unité.

- Quelle est la longueur de la réglette rose ?
- Quelle est la longueur de la réglette marron ?



Réponses : 5 unités
8 unités

La réglette verte vaut 3 unités.

- Quelle est la longueur de la réglette jaune ?
- Quelle est la longueur de la réglette marron ?

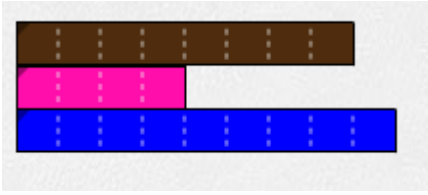


Réponses: 1 unité et demi = $1 + \frac{1}{2}$ ou 3 demis = $\frac{3}{2}$
2 unités et demi = $2 + \frac{1}{2}$ ou 5 demis = $\frac{5}{2}$

La réglette rose vaut 1 unité.

- Quelle est la longueur de la réglette verte ?
- Quelle est la longueur de la réglette orange ?





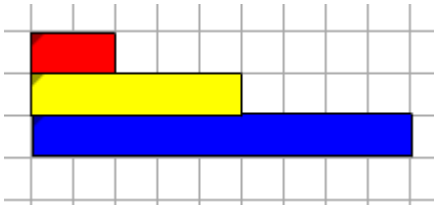
La réglette bleue vaut 1 unité.

- Quelle est la longueur de la réglette marron ?
- Quelle est la longueur de la réglette rose ?



Réponses : 8 neuvièmes de l'unité $\frac{8}{9}$

4 neuvièmes de l'unité = $\frac{4}{9}$



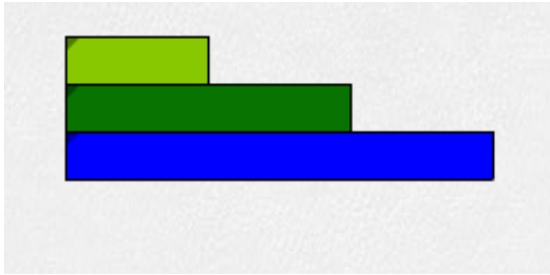
La réglette rouge vaut 1 unité.

- Quelle est la longueur de la réglette jaune ?
- Quelle est la longueur de la réglette bleue ?



Réponses: 2 unités et demi = $2 + \frac{1}{2}$ ou 5 demis = $\frac{5}{2}$

4 unités et 1 demi = $4 + \frac{1}{2}$ ou 9 demis = $\frac{9}{2}$



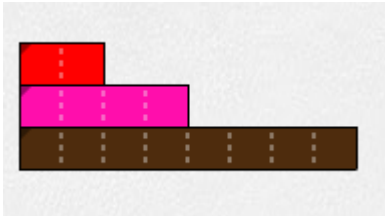
La réglette vert foncé vaut une unité.

- Quelle est la longueur de la réglette vert clair ?
- Quelle est la longueur de la réglette bleue ?



Réponses : 1 demi de l'unité = $\frac{1}{2}$

3 demis de l'unité = $\frac{3}{2}$ ou 1 unité et un demi = $1 + \frac{1}{2}$



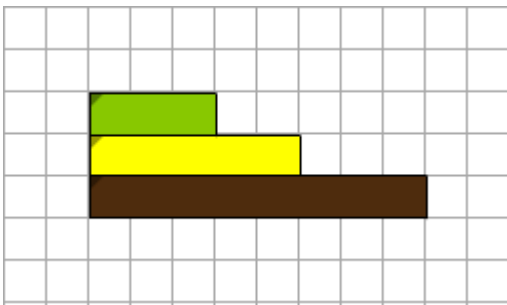
La réglette rose vaut 2 unités.

- Quelle est la longueur de la réglette rouge ?
- Quelle est la longueur de la réglette marron ?



Réponses : 1 unité

4 unités.



La réglette jaune vaut 1 unité.

- Quelle est la longueur de la réglette verte ?
- Quelle est la longueur de la réglette marron ?



Réponses : 3 cinquièmes de l'unité = $\frac{3}{5}$

8 cinquièmes de l'unité = $\frac{8}{5}$ ou 1 unité et 3 cinquièmes = $1 + \frac{3}{5}$



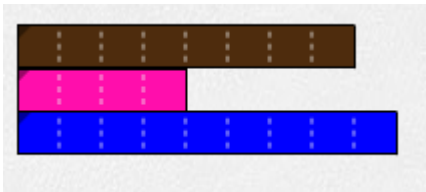
La réglette verte vaut 1 unité.

- Quelle est la longueur de la réglette rose ?
- Quelle est la longueur de la réglette orange ?



Réponses: $4/6$ de l'unité = $2/3$

$10/6$ de l'unité = $5/3$ de l'unité = $1 + 2/3$



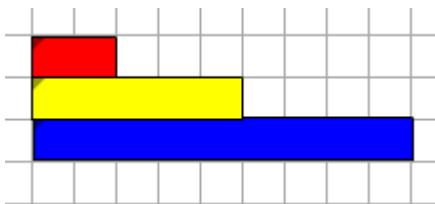
La réglette marron vaut 4 unités.

- Quelle est la longueur de la réglette rose ?
- Quelle est la longueur de la réglette bleue ?



Réponses : 2 unités

4 unités et 1 demi = $4 + \frac{1}{2}$ ou 9 demis = $\frac{9}{2}$



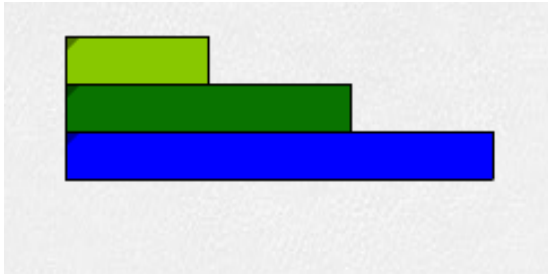
La réglette jaune vaut 1 unité.

- Quelle est la longueur de la réglette rouge ?
- Quelle est la longueur de la réglette bleue ?



Réponses: 2 cinquièmes de l'unité = $\frac{2}{5}$

1 unité et 4 cinquièmes = $1 + \frac{4}{5}$ ou 9 cinquièmes = $\frac{9}{5}$



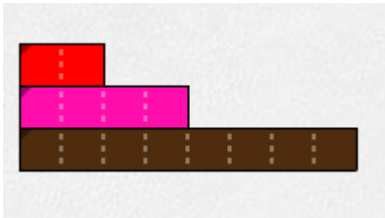
La réglette bleue vaut une unité.

- Quelle est la longueur de la réglette vert clair ?
- Quelle est la longueur de la réglette vert foncé ?



Réponses : 1 tiers de l'unité = $\frac{1}{3}$

2 tiers de l'unité = $\frac{2}{3}$



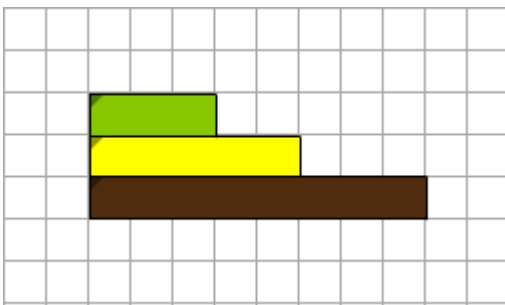
La réglette marron vaut 1 unité.

- Quelle est la longueur de la réglette rouge ?
- Quelle est la longueur de la réglette rose ?



Réponses : 1 quart de l'unité = $\frac{1}{4}$ ou 2 huitièmes = $\frac{2}{8}$

1 demi = $\frac{1}{2}$ ou 4 huitièmes = $\frac{4}{8}$



La réglette marron vaut 2 unités.

- Quelle est la longueur de la réglette verte ?
- Quelle est la longueur de la réglette jaune ?



Réponses : 3 quarts de l'unité = $\frac{3}{4}$

5 quarts de l'unité = $\frac{5}{4}$ ou 1 unité et 1 quart = $1 + \frac{1}{4}$



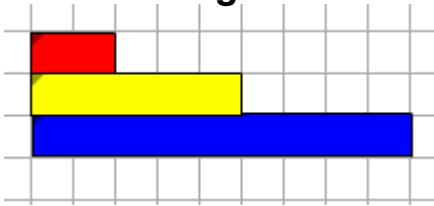
La réglette orange vaut 1 unité.

- Quelle est la longueur de la réglette rose ?
- Quelle est la longueur de la réglette verte ?



Réponses: 4 dixièmes de l'unité = $\frac{4}{10}$ ou 2 cinquièmes = $\frac{2}{5}$
 6 dixièmes de l'unité = $\frac{6}{10}$ ou 3 cinquièmes = $\frac{3}{5}$

Et pour les enseignants...



La réglette bleue vaut 2 unités.

- Quelle est la longueur de la réglette rouge ?
- .Quelle est la longueur de la réglette jaune?



Réponses : 2/9 de la réglette bleue (2u) soit $2 \times \frac{2}{9} = \frac{4}{9}$
 5/9 de la réglette bleue (2u) soit $2 \times \frac{5}{9} = \frac{10}{9}$